

II- Se repérer dans mon espace proche(Santeny) :cartes, plans et orientation

Comment se situer, se déplacer dans mon espace proche ?

1 Qu'est-ce qu'un plan ? Qu'est-ce qu'une carte ?

- Un **plan** est une représentation, en général à la verticale, d'un espace très proche : un quartier de ville par exemple.
- Une **carte** est une représentation, en général à la verticale, d'un espace plus large que le plan : une région, un pays, un continent.

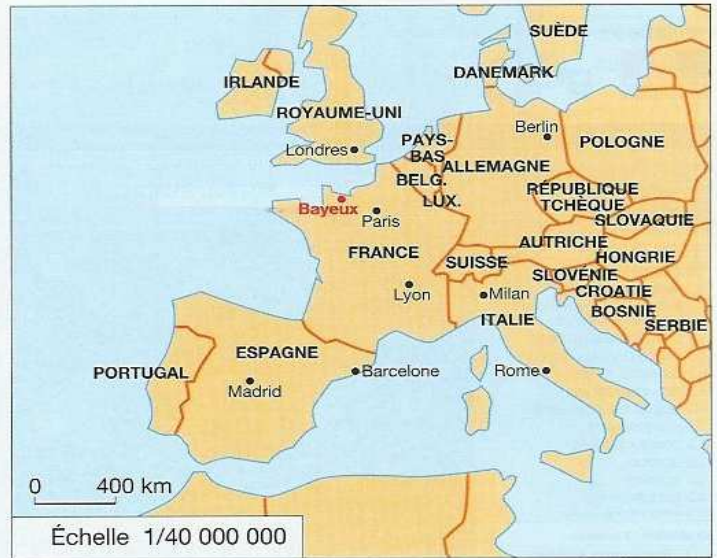
- Il existe **différents types de plans et de cartes** pour découvrir l'espace proche :
 - les plans de ville (doc. 1 p. 182, doc. 6 p. 247)
 - les plans ou cartes touristiques (doc. 5 p. 274)
 - les plans ou cartes de transport (plan de métro ou de bus, carte routière, carte du réseau ferré...)
 - les cartes topographiques, qui représentent le relief et les aménagements humains de manière précise (doc. 1 p. 185).

2 Les échelles

- Les cartes ont des échelles différentes.



Carte 1 Au 1/20 000 000, c'est-à-dire à l'échelle du vingt millionième.



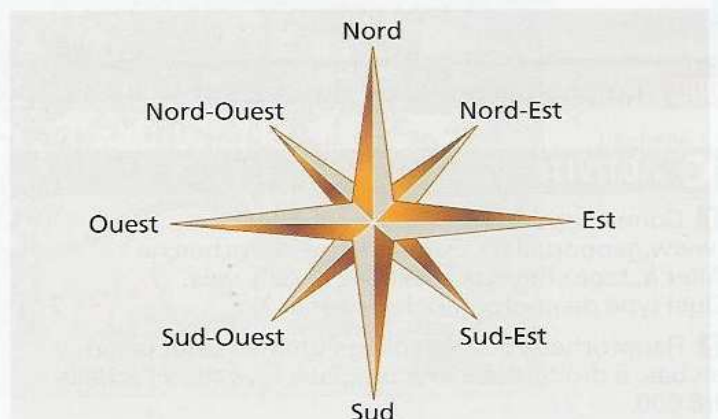
Carte 2 Au 1/40 000 000, c'est-à-dire à l'échelle du quarante millionième.

- Une carte au 1/20 000 000 est une carte où 1 cm représente 20 000 000 cm dans la réalité soit 200 km. Une carte au 1/40 000 000 est une carte où 1 cm représente 40 000 000 cm dans la réalité soit 400 km.
- Une **carte à petite échelle** est une carte qui représente un lieu vu de près (par exemple une région). Une **carte à grande échelle** est une carte qui représente un lieu vu de loin (par exemple un pays).

3 L'orientation

Sur les plans et les cartes, le Nord est en haut de la carte à la verticale, sauf si une autre orientation est indiquée sur la carte.

La rose des vents permet de s'orienter sur la carte.

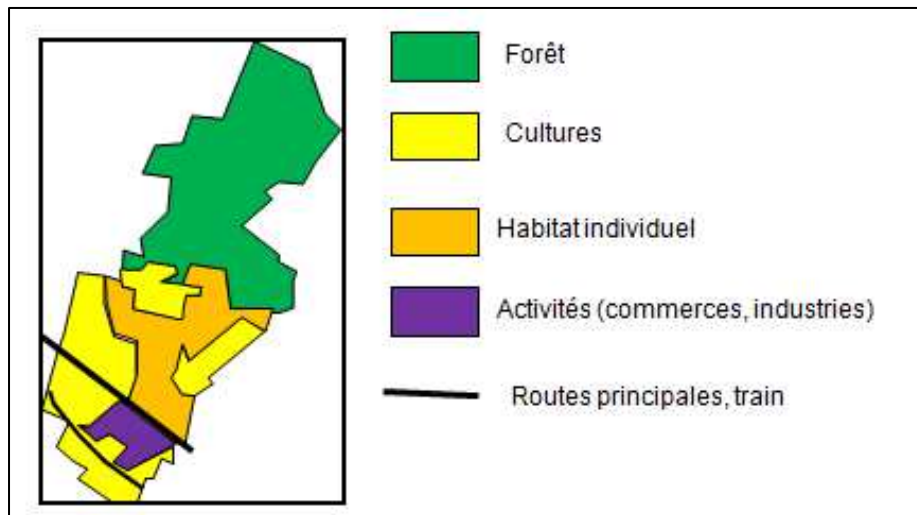


VOUS VOULEZ GUIDER QUELQU'UN DE LA MAIRIE AU COLLEGE : DECRIVEZ L'ITINERAIRE DE MANIERE PRECISE

III- Comment est organisé mon territoire local?

DIAPO 4,5,6

Santeny est une commune qui reste rurale (les $\frac{3}{4}$ de l'espace sont occupés par la forêt, les champs) mais Santeny est proche (25Km) et très liée à Paris (beaucoup d'habitants travaillent à Paris) . Santeny est donc une commune touchée par la **périurbanisation (=urbanisation des communes rurales proche des grandes villes)**. On parle aussi de commune **rurbaine (= village autour des grandes villes peuplés par des gens qui travaillent dans les villes)**.



IV- Situer mon espace proche en France, en Europe et dans le monde :

Comment se repérer et se localiser à l'échelle nationale, continentale ou mondiale ?

VOIR P. 201, 202 ET 203



1. Dans quel département habitez-vous ?

.....

2. Repassez les limites de votre département sur la carte.

3. De quelle région votre département fait-il partie ?

.....

4. Sur la carte, coloriez en rouge votre région.

5. Sur la carte, coloriez en vert les régions limitrophes (voisines) de la vôtre.

6. Sur la carte, écrivez les noms des mers et océans qui bordent le territoire français.

Où se situe la France en Europe et dans le monde ?

1. Sur la carte, coloriez en rouge la France et écrivez son nom.
2. Sur quel continent la France est-elle située ?

3. Nommez les pays limitrophes de la France selon leur numéro sur la carte.

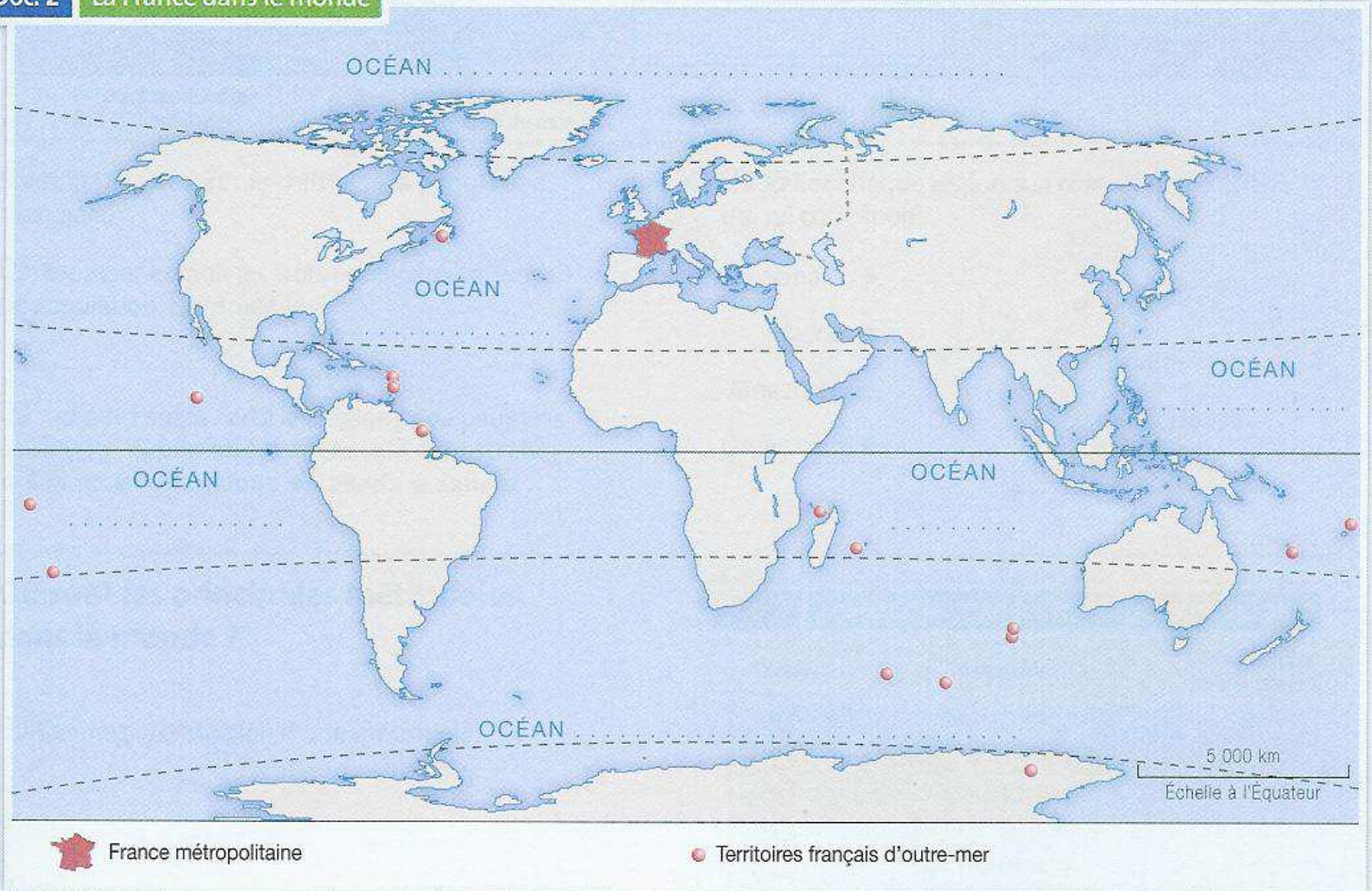
- 1
 2
 3
 4
 5
 6

4. Sur la carte, écrivez les noms de l'océan et des mers qui bordent le continent européen.

Doc. 1 La France en Europe



Doc. 2 La France dans le monde



5. Sur le planisphère, écrivez en bleu le nom des océans.
6. Sur le planisphère, écrivez les noms des six continents.

7. Sur les lignes imaginaires du planisphère, écrivez le mot Équateur et le nom de ses quatre parallèles.
 8. Dans quel hémisphère vivez-vous ?
-